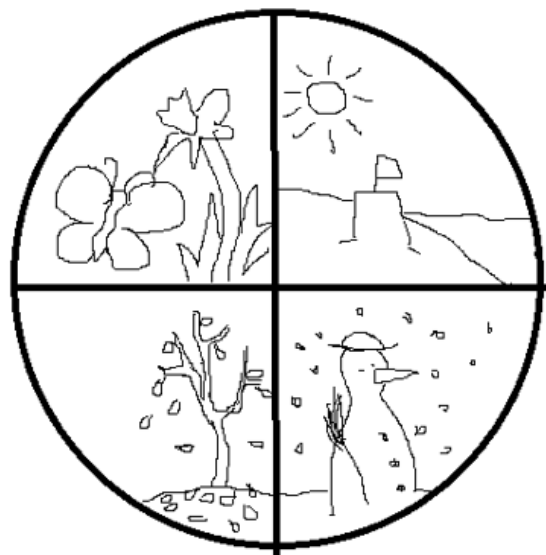


DOBROVOLNÝ DOMÁCÍ ÚKOL Z AJ NA 42. TÝDEN (DO 19.6.)

Namaluj ke každému měsíci obrázek se symbolem, co je pro něj typické:

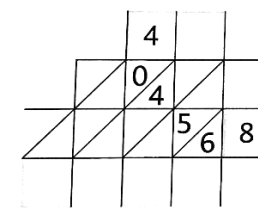
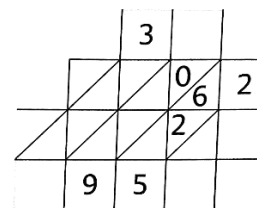
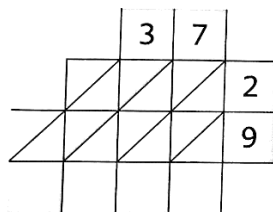
January	February	March	April
May	June	July	August
September	October	November	December

Pojmenuj roční období. Použij slovíčka *spring, autumn, summer, winter*.



DOBROVOLNÝ DOMÁCÍ ÚKOL Z M NA 42. TÝDEN (DO 19.6.)

Vynásob indickým způsobem.



Vypočítej.

$$\begin{aligned} 324 + 18 &= \square \\ 642 + 57 &= \square \\ 234 + 19 &= \square \\ 421 + 80 &= \square \\ 122 + 90 &= \square \end{aligned}$$

$$\begin{aligned} \square + 148 &= 169 \\ 63 + \square &= 178 \\ \square + 82 &= 202 \\ 703 + \square &= 768 \\ \square + 36 &= 616 \end{aligned}$$

$$\begin{aligned} 963 - 42 &= \square \\ 726 - 25 &= \square \\ 652 - 34 &= \square \\ 331 - 26 &= \square \\ 462 - 70 &= \square \end{aligned}$$

Vypočítej.

$$\begin{aligned} 7 : 3 &= \text{---} \text{ zb } \text{---} & 12 : 5 &= \text{---} \text{ zb } \text{---} & 22 : 7 &= \text{---} \text{ zb } \text{---} \\ 9 : 4 &= \text{---} \text{ zb } \text{---} & 14 : 6 &= \text{---} \text{ zb } \text{---} & 27 : 5 &= \text{---} \text{ zb } \text{---} \\ 8 : 5 &= \text{---} \text{ zb } \text{---} & 20 : 8 &= \text{---} \text{ zb } \text{---} & 34 : 6 &= \text{---} \text{ zb } \text{---} \\ 7 : 2 &= \text{---} \text{ zb } \text{---} & 15 : 9 &= \text{---} \text{ zb } \text{---} & 19 : 3 &= \text{---} \text{ zb } \text{---} \\ 8 : 3 &= \text{---} \text{ zb } \text{---} & 10 : 3 &= \text{---} \text{ zb } \text{---} & 23 : 4 &= \text{---} \text{ zb } \text{---} \end{aligned}$$

Vypočítej písemně, výsledky ověř na kalkulačce.

$$\begin{array}{r} 236 \\ 254 \\ 138 \\ \hline \end{array} \quad \begin{array}{r} 404 \\ 120 \\ 348 \\ \hline \end{array} \quad \begin{array}{r} 379 \\ 370 \\ 125 \\ \hline \end{array} \quad \begin{array}{r} 196 \\ 468 \\ 222 \\ \hline \end{array}$$

$$\begin{array}{r} 963 \\ -152 \\ \hline \end{array} \quad \begin{array}{r} 782 \\ -358 \\ \hline \end{array} \quad \begin{array}{r} 631 \\ -582 \\ \hline \end{array} \quad \begin{array}{r} 700 \\ -387 \\ \hline \end{array}$$